

第十一章

曲线积分与曲面积分

积分学	定积分	二重积分	三重积分	曲线积分	曲面积分
积分域	区 间	平面域	空间域	曲线弧	曲面域

曲线积分 { 对弧长的曲线积分
对坐标的曲线积分

曲面积分 { 对面积的曲面积分
对坐标的曲面积分

对弧长的曲线积分

一、对弧长的曲线积分的概念与性质

二、对弧长的曲线积分的计算法



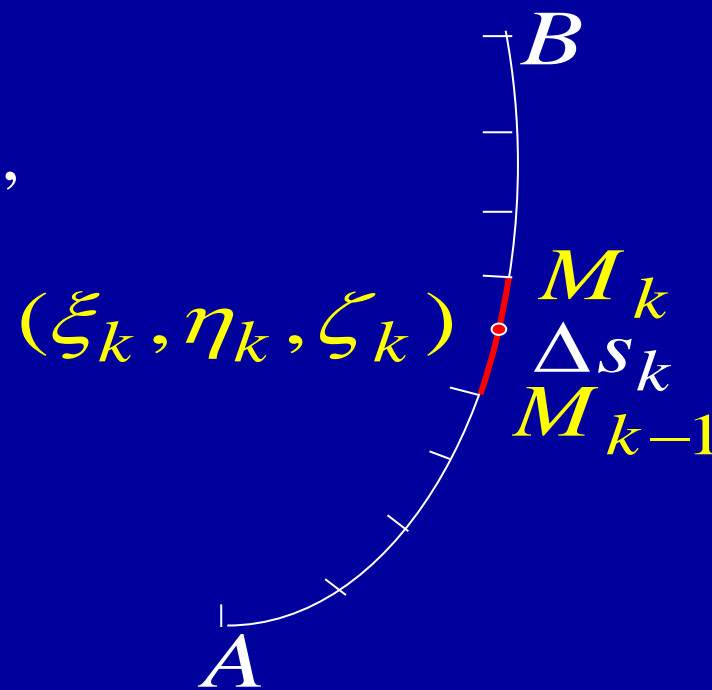
一、对弧长的曲线积分的概念与性质

1. 引例：曲线形构件的质量

假设曲线形细长构件在空间所占弧段为 \widehat{AB} ，
其线密度为 $\rho(x, y, z)$ ，
为计算此构件的质量，采用

“大化小，常代变，近似和，求极限”

可得
$$M = \lim_{\lambda \rightarrow 0} \sum_{k=1}^n \rho(\xi_k, \eta_k, \zeta_k) \Delta s_k$$



2. 定义

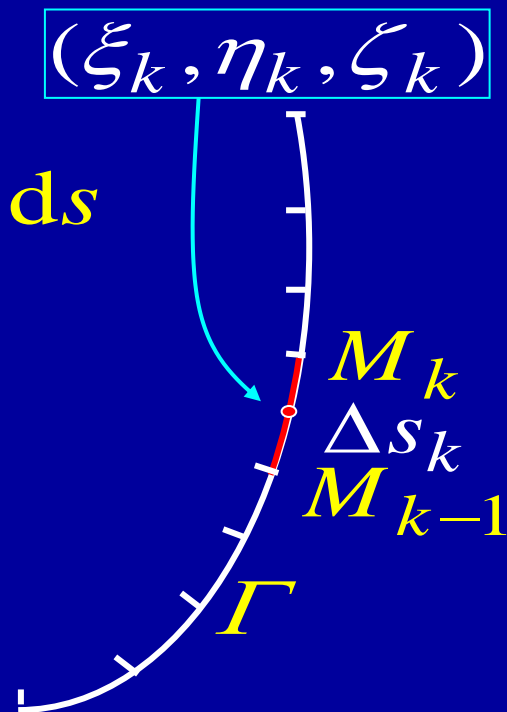
设 Γ 是空间中一条有限长的光滑曲线, $f(x, y, z)$ 是定义在 Γ 上的一个有界函数, 若通过对 Γ 的任意分割 和对分段的任意取点, 下列 “乘积和式极限”

$$\lim_{\lambda \rightarrow 0} \sum_{k=1}^n f(\xi_k, \eta_k, \zeta_k) \Delta s_k \stackrel{\text{记作}}{=} \int_{\Gamma} f(x, y, z) ds$$

都存在, 则称此极限为函数 $f(x, y, z)$ 在曲线 Γ 上对弧长的曲线积分, 或第一类曲线积分.

$f(x, y, z)$ 称为被积函数, Γ 称为积分弧段.

曲线形构件的质量 $M = \int_{\Gamma} \rho(x, y, z) ds$



如果 L 是 xOy 面上的曲线弧, 则定义对弧长的曲线积分为

$$\int_L f(x, y) ds = \lim_{\lambda \rightarrow 0} \sum_{k=1}^n f(\xi_k, \eta_k) \Delta s_k$$

如果 L 是闭曲线, 则记为 $\oint_L f(x, y) ds$.

思考:

(1) 若在 L 上 $f(x, y) \equiv 1$, 问 $\int_L ds$ 表示什么?

(2) 定积分是否可看作对弧长曲线积分的特例?

否! 对弧长的曲线积分要求 $ds \geq 0$, 但定积分中 dx 可能为负.



3. 性质

$$\begin{aligned} (1) \quad \int_{\Gamma} [\alpha f(x, y, z) + \beta g(x, y, z)] ds \\ = \alpha \int_{\Gamma} f(x, y, z) ds + \beta \int_{\Gamma} g(x, y, z) ds \\ (\alpha, \beta \text{ 为常数}) \end{aligned}$$

$$\begin{aligned} (2) \quad \int_{\Gamma} f(x, y, z) ds = \int_{\Gamma_1} f(x, y, z) ds + \int_{\Gamma_2} f(x, y, z) ds \\ (\Gamma \text{ 由 } \Gamma_1, \Gamma_2 \text{ 组成}) \end{aligned}$$

$$\begin{aligned} (3) \quad \text{设在 } \Gamma \text{ 上 } f(x, y, z) \leq g(x, y, z), \text{ 则} \\ \int_{\Gamma} f(x, y, z) ds \leq \int_{\Gamma} g(x, y, z) ds \end{aligned}$$

$$(4) \quad \int_{\Gamma} ds = l \quad (l \text{ 为曲线弧 } \Gamma \text{ 的长度})$$



二、对弧长的曲线积分的计算法

基本思路： 求曲线积分 $\xrightarrow{\text{转化}}$ 计算定积分

定理： 设 $f(x, y)$ 是定义在光滑曲线弧

$$L: x = \varphi(t), y = \psi(t) \quad (\alpha \leq t \leq \beta)$$

上的连续函数, 则曲线积分 $\int_L f(x, y) ds$ 存在, 且

$$\int_L f(x, y) ds = \int_{\alpha}^{\beta} f[\varphi(t), \psi(t)] \sqrt{\varphi'^2(t) + \psi'^2(t)} dt$$

证： 根据定义

$$\int_L f(x, y) ds = \lim_{\lambda \rightarrow 0} \sum_{k=1}^n f(\xi_k, \eta_k) \Delta s_k$$



设各分点对应参数为 t_k ($k=0,1,\cdots,n$),

点 (ξ_k, η_k) 对应参数为 $\tau_k \in [t_{k-1}, t_k]$,

$$\Delta s_k = \int_{t_{k-1}}^{t_k} \sqrt{\varphi'^2(t) + \psi'^2(t)} dt$$

$$= \sqrt{\varphi'^2(\tau'_k) + \psi'^2(\tau'_k)} \Delta t_k, \quad \tau'_k \in [t_{k-1}, t_k]$$

则 $\int_L f(x, y) ds$

$$= \lim_{\lambda \rightarrow 0} \sum_{k=1}^n f[\varphi(\tau_k), \psi(\tau_k)] \sqrt{\varphi'^2(\tau'_k) + \psi'^2(\tau'_k)} \Delta t_k$$



注意 $\sqrt{\phi'^2(t) + \psi'^2(t)}$ 一致连续

$$= \lim_{\lambda \rightarrow 0} \sum_{k=1}^n f[\varphi(\tau_k), \psi(\tau_k)] \sqrt{\varphi'^2(\tau_k) + \psi'^2(\tau_k)} \Delta t_k$$



因此

$$\int_L f(x, y) \, ds = \int_{\alpha}^{\beta} f[\varphi(t), \psi(t)] \sqrt{\varphi'^2(t) + \psi'^2(t)} \, dt$$

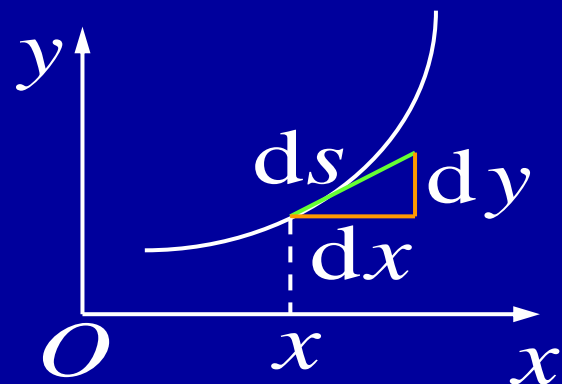
说明:

(1) $\because \Delta s_k > 0, \therefore \Delta t_k > 0$, 因此积分限必须满足 $\alpha < \beta$!

(2) 注意到

$$\begin{aligned} ds &= \sqrt{(dx)^2 + (dy)^2} \\ &= \sqrt{\varphi'^2(t) + \psi'^2(t)} \, dt \end{aligned}$$

因此上述计算公式相当于“换元法”.



如果曲线 L 的方程为 $y = \psi(x)$ ($a \leq x \leq b$), 则有

$$\int_L f(x, y) ds = \int_a^b f(x, \psi(x)) \sqrt{1 + \psi'^2(x)} dx$$

如果方程为极坐标形式: $L: r = r(\theta)$ ($\alpha \leq \theta \leq \beta$), 则

$$\begin{aligned} \int_L f(x, y) ds \\ = \int_{\alpha}^{\beta} f(r(\theta) \cos \theta, r(\theta) \sin \theta) \sqrt{r^2(\theta) + r'^2(\theta)} d\theta \end{aligned}$$

推广: 设空间曲线弧的参数方程为

$$\Gamma: x = \varphi(t), y = \psi(t), z = \omega(t) \quad (\alpha \leq t \leq \beta)$$

则 $\int_{\Gamma} f(x, y, z) ds$

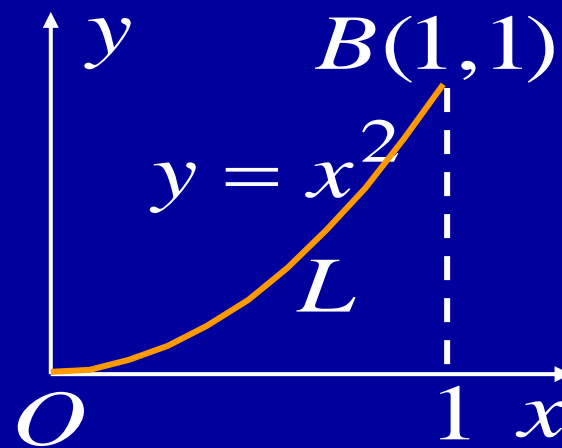
$$= \int_{\alpha}^{\beta} f(\varphi(t), \psi(t), \omega(t)) \sqrt{\varphi'^2(t) + \psi'^2(t) + \omega'^2(t)} dt$$



例1. 计算 $\int_L \sqrt{y} \, ds$, 其中 L 是抛物线 $y = x^2$ 上点 $O(0,0)$ 与点 $B(1,1)$ 之间的一段弧.

解: $\because L: y = x^2 \quad (0 \leq x \leq 1)$

$$\begin{aligned}\therefore \int_L \sqrt{y} \, ds &= \int_0^1 x \cdot \sqrt{1 + (2x)^2} \, dx \\ &= \int_0^1 x \sqrt{1 + 4x^2} \, dx \\ &= \left[\frac{1}{12} (1 + 4x^2)^{3/2} \right]_0^1 \\ &= \frac{1}{12} (5\sqrt{5} - 1)\end{aligned}$$

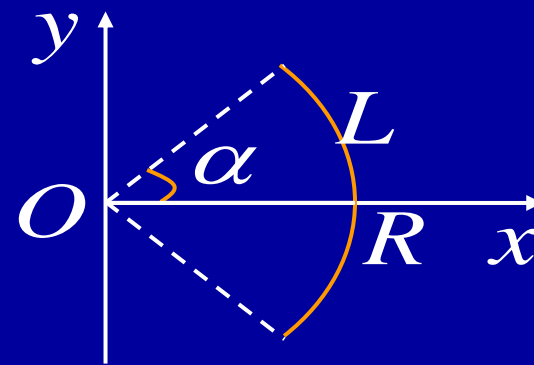


例2. 计算半径为 R , 中心角为 2α 的圆弧 L 对于它的对称轴的转动惯量 I (设线密度 $\mu = 1$).

解: 建立坐标系如图, 则

$$I = \int_L y^2 ds$$

$$\left| \begin{array}{l} L: \begin{cases} x = R \cos \theta \\ y = R \sin \theta \end{cases} \quad (-\alpha \leq \theta \leq \alpha) \end{array} \right.$$



$$= \int_{-\alpha}^{\alpha} R^2 \sin^2 \theta \sqrt{(-R \sin \theta)^2 + (R \cos \theta)^2} d\theta$$

$$= R^3 \int_{-\alpha}^{\alpha} \sin^2 \theta d\theta = 2R^3 \left[\frac{\theta}{2} - \frac{\sin 2\theta}{4} \right]_0^{\alpha}$$

$$= R^3 (\alpha - \sin \alpha \cos \alpha)$$



例3. 计算曲线积分 $\int_{\Gamma} (x^2 + y^2 + z^2) \mathrm{d}s$, 其中 Γ 为螺旋线 $x = a \cos t, y = a \sin t, z = kt$ ($0 \leq t \leq 2\pi$) 的一段弧.

解:

$$\begin{aligned} & \int_{\Gamma} (x^2 + y^2 + z^2) \mathrm{d}s \\ &= \int_0^{2\pi} [(a \cos t)^2 + (a \sin t)^2 + (kt)^2] \\ & \quad \cdot \sqrt{(-a \sin t)^2 + (a \cos t)^2 + k^2} \mathrm{d}t \\ &= \sqrt{a^2 + k^2} \int_0^{2\pi} [a^2 + k^2 t^2] \mathrm{d}t \\ &= \sqrt{a^2 + k^2} \left[a^2 t + \frac{k^2}{3} t^3 \right]_0^{2\pi} \\ &= \frac{2\pi}{3} \sqrt{a^2 + k^2} (3a^2 + 4\pi^2 k^2) \end{aligned}$$



例4. 计算 $\oint_{\Gamma} x^2 \, ds$, 其中 Γ 为球面 $x^2 + y^2 + z^2 = a^2$ 被平面 $x + y + z = 0$ 所截的圆周.

解: 由对称性可知 $\oint_{\Gamma} x^2 \, ds = \oint_{\Gamma} y^2 \, ds = \oint_{\Gamma} z^2 \, ds$

$$\begin{aligned}\therefore \oint_{\Gamma} x^2 \, ds &= \frac{1}{3} \oint_{\Gamma} (x^2 + y^2 + z^2) \, ds \\ &= \frac{1}{3} \oint_{\Gamma} a^2 \, ds = \frac{1}{3} a^2 \cdot 2\pi a \\ &= \frac{2}{3} \pi a^3\end{aligned}$$



11.1 作业

P193

3 (3), (4), (6), (7) 5



内容小结

1. 定义
$$\int_L f(x, y) \mathrm{d}s = \lim_{\lambda \rightarrow 0} \sum_{k=1}^n f(\xi_k, \eta_k) \Delta s_k$$

$$\int_{\Gamma} f(x, y, z) \mathrm{d}s = \lim_{\lambda \rightarrow 0} \sum_{k=1}^n f(\xi_k, \eta_k, \zeta_k) \Delta s_k$$

2. 性质

$$\begin{aligned} (1) \quad & \int_{\Gamma} [\alpha f(x, y, z) + \beta g(x, y, z)] \mathrm{d}s \\ &= \alpha \int_{\Gamma} f(x, y, z) \mathrm{d}s + \beta \int_{\Gamma} g(x, y, z) \mathrm{d}s \quad (\alpha, \beta \text{ 为常数}) \end{aligned}$$

$$(2) \quad \int_{\Gamma} f(x, y, z) \mathrm{d}s = \int_{\Gamma_1} f(x, y, z) \mathrm{d}s + \int_{\Gamma_2} f(x, y, z) \mathrm{d}s$$

(Γ 由 Γ_1, Γ_2 组成)

$$(3) \quad \int_{\Gamma} \mathrm{d}s = l \quad (l \text{ 曲线弧 } \Gamma \text{ 的长度})$$



3. 计算

- 对光滑曲线弧 $L: x = \varphi(t), y = \psi(t), (\alpha \leq t \leq \beta),$

$$\int_L f(x, y) ds = \int_{\alpha}^{\beta} f[\varphi(t), \psi(t)] \sqrt{\varphi'^2(t) + \psi'^2(t)} dt$$

- 对光滑曲线弧 $L: y = \psi(x) (a \leq x \leq b),$

$$\int_L f(x, y) ds = \int_a^b f(x, \psi(x)) \sqrt{1 + \psi'^2(x)} dx$$

- 对光滑曲线弧 $L: r = r(\theta) (\alpha \leq \theta \leq \beta),$

$$\begin{aligned} & \int_L f(x, y) ds \\ &= \int_{\alpha}^{\beta} f(r(\theta) \cos \theta, r(\theta) \sin \theta) \sqrt{r^2(\theta) + r'^2(\theta)} d\theta \end{aligned}$$




思考与练习

1. 已知椭圆 $L: \frac{x^2}{4} + \frac{y^2}{3} = 1$ 周长为 a , 求

$$\oint_L (2xy + 3x^2 + 4y^2) ds$$

提示: 利用对称性 $\oint_L 2xy ds = 0$

$$\text{原式} = 12 \oint_L \left(\frac{x^2}{4} + \frac{y^2}{3} \right) ds = 12 \oint_L ds = 12a$$



分析:
$$\begin{aligned} \oint_L 2xy ds &= \int_{L_{\text{上}}} 2xy ds + \int_{L_{\text{下}}} 2xy ds \\ &= \int_{-2}^2 2x \sqrt{\dots} \sqrt{1+y'^2} dx + \int_{-2}^2 2x (-\sqrt{\dots}) \sqrt{1+y'^2} dx \end{aligned}$$



2. 设均匀螺旋形弹簧 L 的方程为
 $z = kt \quad (0 \leq t \leq 2\pi),$

$$\underline{x = a \cos t, y = a \sin t,}$$

(1) 求它关于 z 轴的转动惯量

$$I_z;$$

(2) 求它的质心.

解: 设其密度为 ρ (常数).

$$\begin{aligned} (1) \quad I_z &= \int_L (x^2 + y^2) \rho \, ds = \int_0^{2\pi} a^2 \rho \sqrt{a^2 + k^2} \, dt \\ &= 2\pi a^2 \rho \sqrt{a^2 + k^2} \end{aligned}$$

$$(2) \text{ } L \text{ 的质量 } m = \int_L \rho \, ds = 2\pi \rho \sqrt{a^2 + k^2}$$

$$\text{而 } \int_L x \rho \, ds = a \rho \sqrt{a^2 + k^2} \int_0^{2\pi} \cos t \, dt = 0$$

